



NOMBRE Y APELLIDOS:

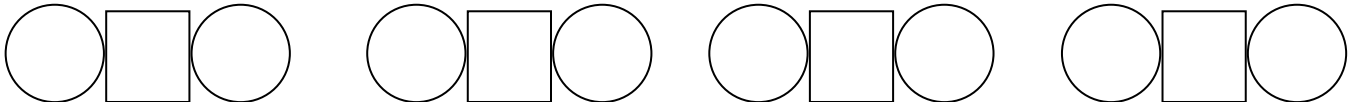
Curso:

Centro:

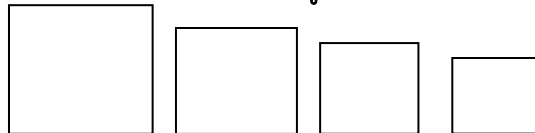
Fecha de evaluación:

1. Numeración:

- Conteo progresivo con salto de decenas (por ejemplo, del 70 al 120).
- Conteo regresivo del 20 al 0.
- Lee los siguientes números: 17, 412, 704, 29, 964, 191.
- Escribe en los siguientes cuadros el número que se te indique:



- Escribe en cada uno de los círculos el número anterior y posterior.
- Traslada a los siguientes cuadros los números que aparecen en los cuadros de arriba ordenándolos de mayor a menor.



- Completa la serie:

89, 92, 95, \_\_\_\_\_, \_\_\_\_\_, \_\_\_\_\_, \_\_\_\_\_, \_\_\_\_\_, \_\_\_\_\_, \_\_\_\_\_, 119

- Completa la serie:

408, 406, 404, \_\_\_\_\_, \_\_\_\_\_, \_\_\_\_\_, \_\_\_\_\_, \_\_\_\_\_, \_\_\_\_\_, \_\_\_\_\_, \_\_\_\_\_, 386

2. Mecánica operatoria:

6 + \_\_\_ = 12

\_\_\_ + 4 = 9

12 + 3 = \_\_\_

11 - 2 = \_\_\_

19 - 6 = \_\_\_

Coloca y resuelve: 642 + 78

78 - 54

749 - 564

564 x 2



### 3. Solución de problemas:

#### Enunciados orales:

- Si tienes 6 monedas en cada mano, ¿cuántas monedas tienes en total?  
Resultado: \_\_\_\_\_
- ¿Y si pierdes 3 de esas monedas? Resultado: \_\_\_\_\_
- ¿Y si después de perderlas tu mamá te da 7 más? Resultado: \_\_\_\_\_
- En un autobús viajan 16 personas. En la primera parada se bajan 7 personas. En la siguiente parada se suben 5. ¿Cuántas personas hay al final en el autobús? Resultado: \_\_\_\_\_

#### Enunciados escritos:

El verano pasado hicimos dos viajes: uno a la playa y otro a la montaña. Del primero tenemos 304 fotos y del segundo 157. ¿Cuántas fotos tenemos en total?

En mi ordenador tengo grabadas un total de 418 fotos. 132 de ellas no me gustaban y las eliminé. ¿Cuántas tengo ahora?

En la farmacia de mi pueblo hicieron recuento para ver cuántas cajas tenían de un determinado medicamento. Vieron que tenían 45 cajas y que 14 estaban caducadas. Entonces encargaron a la fábrica 30 cajas más. ¿Cuántas cajas tendrán ahora?

Las cajas del anterior medicamento contienen 15 pastillas cada una, ¿cuántas pastillas habrá en 4 cajas?



## ACTIVIDADES COMPLEMENTARIAS

¿Rodea los billetes y monedas que necesitas para comprar cada juguete?



7 euros y 16 céntimos



21 euros y 32 céntimos



Marca con una cruz las figuras que sean polígonos y escribe su número de lados y vértices:




Lados

Vértices



Lados

Vértices



Lados

Vértices

Representa cada hora:



Las 8



Las 6 y media



Las 10 menos cuarto



Las 3 y cuarto

Completa:

Un día tiene \_\_\_\_\_ horas.

Una semana tienen \_\_\_\_\_ días.

Un año tiene \_\_\_\_\_ meses. El mes que va antes de mayo es \_\_\_\_\_



## REGISTRO DE RESULTADOS

**Cálculo mental y numeración:**

**Mecánica operatoria:**

**Solución de problemas:**

**Actividades complementarias:**

**Observaciones:**